

CULTURA GENERAL

C. SÁNCHEZ - 2014 www.truskplaneta.com



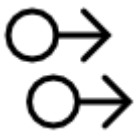
1.- ¿Cuántos ángulos tiene la figura?

- a) Siete ángulos
- b) Cinco ángulos



2.- ¿Cuántas veces necesitas levantar el lápiz del papel para realizar este dibujo?

- a) Tres
- b) Cinco



3.- ¿Hacia que lado apuntan las flechas?

- a) A la izquierda
- b) A la derecha



4.- ¿Qué mano está cerrada?

- a) La mano izquierda
- b) La mano derecha



5.- Observa la imagen. Parece...

- a) El mapa de un tesoro
- b) Una carta



6.- Las rotondas o glorietas se recorren en el sentido...

- a) Las rotondas o glorietas se recorren en el sentido...
- b) De las agujas del reloj



7.- Un autobús es un medio de transporte de pasajeros...

- a) Colectivo
- b) Individual



8.- Las zanahorias son uno de los alimentos preferidos de...

- a) Los gatos
- b) Los conejos



9.- El músico que toca este instrumento es...

- a) El bajista
- b) El trompetista



10.- ¿Cómo se llaman los compartimentos para dormir de los barcos?

- a) Cámaras
- b) Camarotes



11.- ¿Qué pieza de ajedrez es?

- a) Peón
- b) Alfil



12.- ¿Cuántos lados tiene un cubo?

- a) Seis lados
- b) Ocho lados



13.- Uno de los principales ingredientes del pan es...

- a) La harina
- b) La sal



14.- ¿Dónde se aloja el encéfalo?

- a) En el cráneo
- b) En el cerebro



15.- ¿Qué pieza de ajedrez es?

- a) Peón
- b) Alfil



16.- Observa la imagen. A esta bicicleta le faltan los pedales y...

- a) Los radios de las ruedas
- b) El manillar



17.- ¿Reconoces esta prenda? ¿Quién suele utilizarla?

- a) Las personas hospitalizadas
- b) Los bebés



18.- ¿Cómo se llama cada uno de los palitos con los que se toca el tambor?

- a) Tamboril
- b) Baqueta



19.- ¿De qué está compuesta una tijera?

- a) De dos hojas de acero
- b) De dos cuchillas con un sólo filo



20.- Este avión viaja de México a España por la ruta más corta. ¿Qué océano atraviesa?

- a) El océano Pacífico
- b) El océano Atlántico



21.- ¿En qué deporte se utilizan estas pesas?

- a) Halterofilia
- b) Curling



22.- ¿Hay bolígrafos con tinta verde?

- a) No
- b) Sí



23.- Es una cómoda butaca. ¿Cuántas patas ves?

- a) Dos patas
- b) Cuatro patas



24.- ¿Qué hora marca el reloj?

- a) Las 9 horas
- b) Las 11 horas y 45 minutos



25.- Observa la imagen. ¿Qué es?

- a) Tres cajones
- b) Un armario



26.- ¿Cuántas ventanas hay en cada edificio?

- a) Seis ventanas
- b) Doce ventanas



27.- Observa la imagen. ¿Qué puede ser?

- a) Pomada
- b) Jarabe




28.- ¿Qué crees que quiere decir la imagen?

- a) Que es un angelito
- b) Que es un diablillo



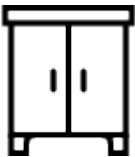
29.- ¿Las sirenas de las ambulancias suenan igual que las de los coches de bomberos?

- a) Sí
- b) No



30.- Observa la alineación de los renglones. Las líneas están...

- a) Alineadas a la izquierda
- b) Justificadas



31.- El armario está cerrado y para abrir las puertas...

- a) Tiramos de los pomos
- b) Tiramos de los mangos



32.- Observa la imagen. ¿Es un ave o un insecto?

- a) Un ave
- b) Un insecto



33.- Observa la imagen. ¿Cuántas puertas tiene la casa?

- a) No se ve ninguna puerta
- b) Una puerta



34.- ¿Qué dedos tapa el dedo pulgar?

- a) El índice y el corazón
- b) El anular y el meñique



35.- Queremos echar en la jarra medidora 100 cl de agua o lo que es lo mismo...

- a) 1 Litro de agua
- b) 10 Litros de agua



36.- A este instrumento musical le ponemos 4 cuerdas y ya tenemos...

- a) Una guitarra
- b) Un violín



37.- El queso es un producto...

- a) Lácteo
- b) Vegetal



38.- ¿Cuántos ángulos rectos hay en la imagen?

- a) Cuatro ángulos rectos
- b) Dos ángulos rectos



39.- ¿Cómo se llaman las crías de los patos?

- a) Patitos
- b) Pollos



40.- Observa la imagen. ¿Qué parte de la zanahoria vemos cuando está plantada en la tierra?

- a) Las hojas
- b) La parte carnosa



41.- Esta máscara tiene una expresión...

- a) Triste
- b) Dubitativa



42.- En el interior de un paraguas se encuentran...

- a) La empuñadura y la contera
- b) Las varillas



43.- Observa la imagen. Esta pequeña barca funciona...

- a) A motor
- b) A remo



44.- ¿Cuántos vértices tiene un rombo?

- a) Cuatro vértices
- b) Dos vértices



45.- El transportador sirve para medir o trazar ángulos y se utiliza en...

- a) Geometría
- b) Aritmética



46.- ¿Cómo se llaman las ventanas de los camarotes de los barcos?

- a) Ojo de buey
- b) Tronada



47.- Una olla puede ser de...

- a) Metal o barro
- b) Metal



48.- Lo normal es que esté en la cocina y lo utilizamos para...

- a) Conservar los alimentos
- b) Cocinar los alimentos



49.- ¿Una televisión es un aparato eléctrico?

- a) Sí
- b) No



50.- ¿Cómo se llama este instrumento de medición?

- a) Compás
- b) Transportador



51.- Una brújula tiene una aguja imantada que gira sobre un eje y que siempre señala...

- a) El sur
- b) El norte



52.- Observa la alineación de los renglones. Las líneas están...

- a) Centradas
- b) Justificadas



53.- ¿Para qué se utilizan las ambulancias?

- a) Para el traslado de personal sanitario
- b) Para el traslado de heridos o enfermos



54.- Esta pequeña máquina es...

- a) Una cafetera
- b) Una tetera



55.- Una parte indispensable de los peines son...

- a) Las púas
- b) El mango



56.- ¿Cómo está el contenido de la taza?

- a) Caliente
- b) Frío



57.- Esta prenda de vestir tiene...

- a) Cuello cisne
- b) Cuello camisero



58.- ¿Las gallinas tienen espolones en sus patas?

- a) No
- b) Sí



59.- Observa la imagen. ¿Qué puede ser?

- a) Una naranja
- b) Un limón



60.- ¿Qué hora marca el reloj?

- a) Las 7 horas
- b) Las 8 horas



61.- Los cactus acumulan abundante agua en su interior.

- a) Verdadero
- b) Falso



62.- La tuba es un instrumento musical de...

- a) Viento
- b) Percusión



63.- Observa la imagen. ¿Qué es?

- a) Un adorno
- b) Un trofeo



64.- ¿Cuál es el fruto del roble?

- a) El piñón
- b) La bellota



65.- Los sonidos musicales se representan con notas musicales en...

- a) Un cuaderno
- b) Un pentagrama



66.- Define lo que es una moto.

- a) Vehículo motorizado de dos ruedas
- b) Vehículo con motor de una o dos plazas



67.- ¿Cómo se llama la acción de cortar la lana a las ovejas?

- a) Vellón
- b) Esquilar



68.- Este tipo de calzado se llama...

- a) Bota
- b) Botín



69.- Observa detenidamente la imagen. ¿Qué hay dentro del tarro?

- a) Miel
- b) Azúcar



70.- ¿Qué necesitamos para que la bombilla alumbre?

- a) Electricidad
- b) Una fuente de calor



71.- ¿Qué deporte crees que practica?

- a) Esquí alpino
- b) Esquí náutico



72.- ¿Qué necesitamos para abrir el candado?

- a) Nada
- b) Su llave



73.- Hay peces de mar y peces de río o agua dulce. Las truchas son...

- a) Peces de mar
- b) Peces de agua dulce



74.- ¿Son los calcetines prendas exclusivas del invierno?

- a) Sí
- b) No



75.- Los pájaros gorjean o...

- a) Parpan
- b) Trinan



76.- Esta cabaña parece hecha con...

- a) Hojas de palmera
- b) Troncos de madera



77.- El médico nos ausculta con...

- a) Un estetoscopio
- b) Un auscultador



78.- Indica el lado contrario al que apunta la flecha.

- a) Izquierda
- b) Derecha



79.- ¿Cómo se llama la parte del cochecito en la que reposa el bebé?

- a) Capazo
- b) Carricoche



80.- ¿Cómo se llama el tubo que se desplaza, de una jeringuilla?

- a) Émbolo
- b) Jeringa



81.- Seleccionas una emisora en la radio a través...

- a) Del dial
- b) De una aguja



82.- Este avión viaja de Lisboa a Madrid por la ruta más corta. ¿Qué océano tiene que atravesar?

- a) Ninguno
- b) El océano Atlántico



83.- En la taza hay...

- a) Una infusión
- b) Leche con azúcar



84.- Esta etiqueta marcará el precio en...

- a) Euros
- b) Libras



85.- Observa la imagen. ¿A qué podemos jugar con esos dos objetos?

- a) Al tenis
- b) Al ping-pong



86.- ¿Para qué se utiliza el termómetro clínico?

- a) Para medir la temperatura corporal
- b) Para medir la temperatura del aire



87.- El tomate, ¿cuelga de una planta o crece plantado en la tierra?

- a) Cuelga de una planta
- b) Crece plantado en la tierra



88.- ¿Cómo se llama la pieza que pende del interior de la campana?

- a) Martillo
- b) Badajo



89.- Es un tren y por tanto circula...

- a) Sobre raíles
- b) Por una vía



90.- ¿Qué instrumento musical es?

- a) Una corneta
- b) Una trompeta

FIN